

සබරගමුව පළාත් අධ්‍යාපන දෙපාර්තමේන්තුව

ගණිතය - 1 ශ්‍රේණිය

සැකසුම - රත්නපුර අධ්‍යාපන කලාපය


නම - ඩී.ජී චන්ද්‍රකා ගුරුතුමිය - ර / ශ්‍රී රාහුල ප්‍රාථමික විදුහල

3 පාඩම - ද්‍රව්‍ය කට්ටල දෙකක් එකට එක ගැලපීම.
පෙරවැඩ කාර්ය පත්‍රිකාව

පෙර සූදානම් කරගත යුතු දේවල්

කණ්ඩායම් වලට ප්‍රමාණවත් පරිදි සකසා ගන්න. නිතැතින්ම එකට එක ගැලපෙන ද්‍රව්‍ය / රූප පෝච්චි හා මල්, බැටි හා බෝල, යෝගට් කෝප්ප හා හැඳි, බෝතල් හා මුඩි, පැන්සල් හා මකන, පිගන් හා කෝප්ප. ඉගෙනුම් ආධාරකයන් ගුරුතුමියට.

- 1 දූලා පුතාලා රාමුවේ සවිකර ඇති පින්තූරය දෙස හොඳින් බලන්න.
- 2 හැම මුහුණටම තොප්පියක් තිබේද?
- 3 හැම තොප්පියකටම මුහුණක් තිබේද?
- 4 මුහුණු ගණනටම සමානව තොප්පි තිබේද?
- 5 තොප්පි ගණනට සමානව මුහුණු තිබේද?



සබරගමුව පළාත් අධ්‍යාපන දෙපාර්තමේන්තුව

ගණිතය - 1 ශ්‍රේණිය

සැකසුම - රත්නපුර අධ්‍යාපන කලාපය

නම - ඩී.ජී චන්ද්‍රකා ගුරුතුමිය - ර / ශ්‍රී රාහුල ප්‍රාථමික විදුහල


3 පාඩම - ද්‍රව්‍ය කට්ටල දෙකක් එකට එක ගැලපීම.
පැවරුම්

- 1 සිසු කණ්ඩායම්වලට එකට එක ගැලපීමට හැකි ද්‍රව්‍ය කට්ටල භාජනවලට දමා දෙන්න.
- 2 ඔවුන් තම මේසය මත තබා ද්‍රව්‍ය කට්ටල සසඳන ආකාරය හොඳින් බලන්න.
- 3 එකට එක ගැලපීම සිදුකරන ආකාරය ප්‍රශ්න අසමින් තහවුරු කරන්න.
- 4 පසුව එක් ද්‍රව්‍ය කට්ටලයක ද්‍රව්‍ය එකක් අඩුකර ගැලපීමට සිසුන් යොමු කරන්න ප්‍රශ්න අසන්න.
- 5 නැවත එම ද්‍රව්‍ය කට්ටලයෙහි ද්‍රව්‍ය දෙකක් වැඩිකර ගැලපීමට යොමු කරන්න. ප්‍රශ්න අසන්න.
- 6 මෙලෙස අඩුයි/වැඩියි, සමානයි සංකල්පය තහවුරු කරන්න.



දූලා පුතාලා මේ ක්‍රියාකාරකම් කර ඔබේ ගුරුතුමියගෙන් රන් තරුවක් ඉල්ලා ගන්න.

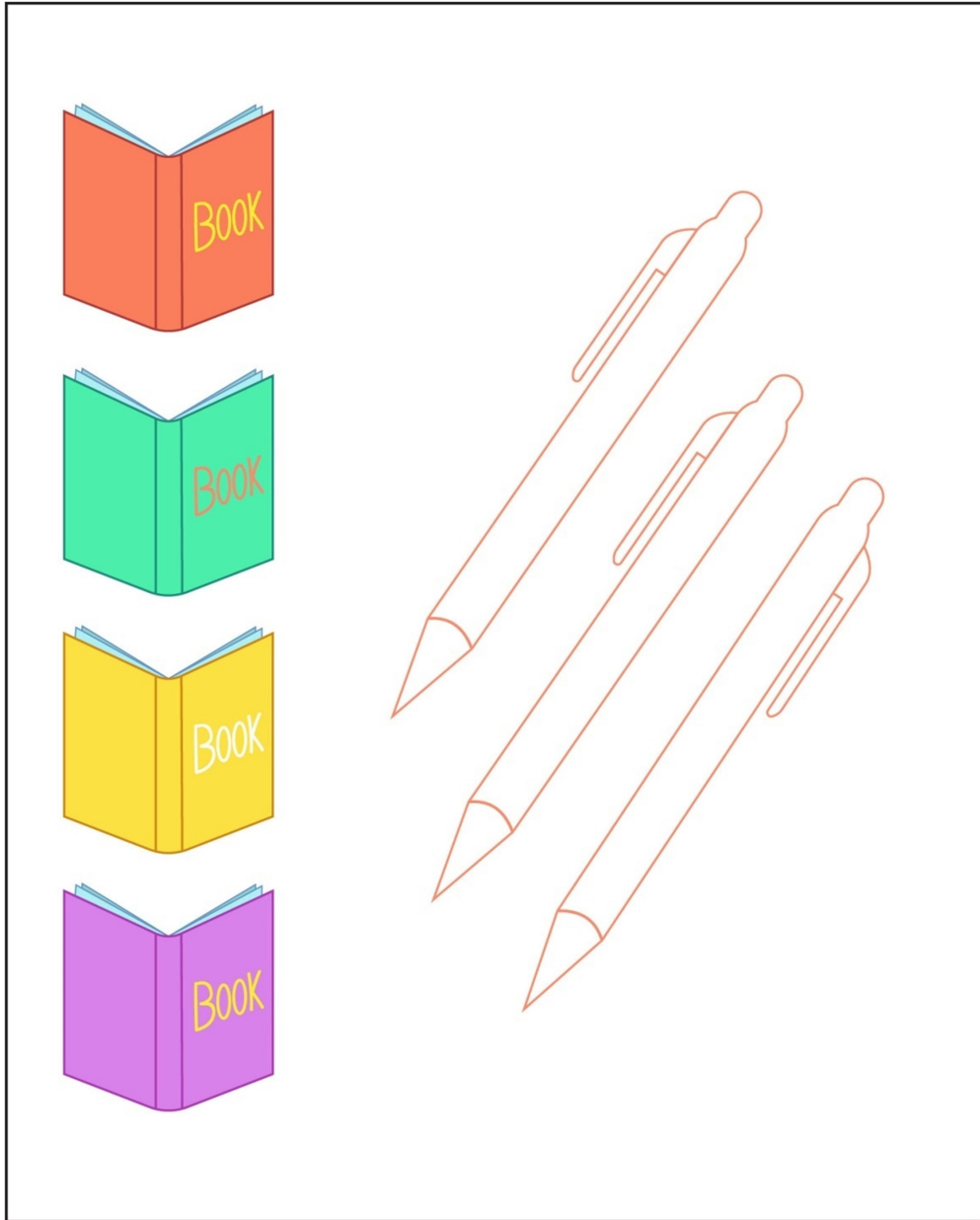
1 එකට එක යා කරන්න.



2 යෝගට් කෝප්පයට හැන්දක් අඳින්න.



3 අඩුවෙන් ඇත්තේ මොනවාද? වැඩියෙන් ඇත්තේ මොනවාද? වැඩි ගොඩ රවුම් කරන්න. අඩු ගොඩ පාට කරන්න.



සබරගමුව පළාත් අධ්‍යාපන දෙපාර්තමේන්තුව

ගණිතය - 1 ශ්‍රේණිය

සැකසුම - රත්නපුර අධ්‍යාපන කලාපය

නම - ඩී.ජී චන්ද්‍රකා ගුරුතුමිය - ර / ශ්‍රී රාහුල ප්‍රාථමික විදුහල

3 පාඩම - ද්‍රව්‍ය කට්ටල දෙකක් එකට එක ගැලපීම
පසුවැඩ කාර්ය පත්‍රිකාව.

- 1 ඔබේ පන්තියේ A,B,C,D,E කණ්ඩායම් දෙස බලන්න.
- 2 එම කණ්ඩායම් වල වැඩියෙන්, අඩුවෙන්, සමානව සිටින ගැහැණු හා පිරිමි ළමුන් කණ්ඩායම් තෝරන්න.
- 3 පිරිමි ළමුන් වැඩියෙන් සිටින කණ්ඩායම් මොනවාද?
- 4 ගැහැණු ළමුන් වැඩියෙන් සිටින කණ්ඩායම් මොනවාද?
- 5 ගැහැණු ළමුන් හා පිරිමි ළමුන් සමානව සිටින කණ්ඩායම් මොනවාද?