

සබරගමුව පළාත් අධ්‍යාපන දෙපාර්තමේන්තුව

ගණිතය - 2 ශ්‍රේණිය

සැකසුම - රත්නපුර අධ්‍යාපන කලාපය

නම - පී.වී.චන්ද්‍රිකා සමන්ලනා

ර/වේවැල්වත්ත කනිෂ්ඨ විද්‍යාලය

04 පාඩම -1 සිට 9 තෙක් සංඛ්‍යා භාවිත කිරීම

පෙර වැඩ කාර්ය පත්‍රිකාව

❖ සුදානම් කර ගත යුතු දේවල්

- 1 සිට 9 තෙක් සංඛ්‍යාපත් කට්ටල
- එක සිට නවය තෙක් සංඛ්‍යා නාම සහිත කාඩ්පත්
- 1 සිට 9 තෙක් රූප කාඩ්පත් කට්ටල
- ගණක

01. 1 ශ්‍රේණියේ දැනුම මතක් කර ගැනීමට 1 සිට 9 තෙක් ගණන් කරන්න.

02. 1 සිට 9 තෙක් සංඛ්‍යාපත් පිළිවෙලින් පහළට තබන්න.

සබරගමුව පළාත් අධ්‍යාපන දෙපාර්තමේන්තුව

ගණිතය - 2 ශ්‍රේණිය

සැකසුම - රත්නපුර අධ්‍යාපන කලාපය

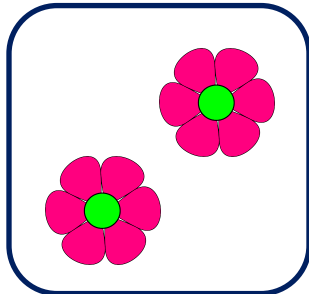
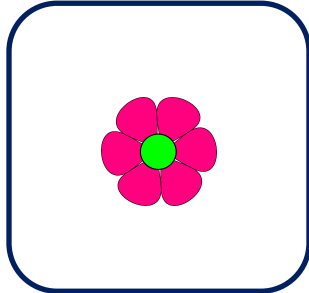
නම - පී.වී.චන්ද්‍රිකා සමන්ලතා

ර/වේවැල්වත්ත කනිෂ්ඨ විද්‍යාලය

04 පාඩම - 1 සිට 9 තෙක් සංඛ්‍යා භාවිත කිරීම පැවරුම

01. 1 සිට 9 තෙක් සංඛ්‍යා පත් සහ රූප පත් මේසයක් මත පිළිවෙලින් පහළට තබන්න.



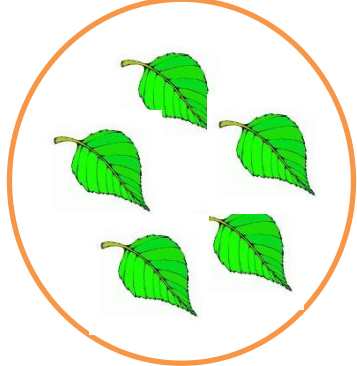
උදාහරණ-



02. 1 සිට 9 තෙක් සංඛ්‍යා පත් පිළිවෙලට තබා ඒවාට අදාළ ගණක ප්‍රමාණ ශබ්ද නගා ගණන් කරමින් සංඛ්‍යාවට ඉදිරියෙන් තබන්න.


03. රූපවලට ගැළපෙන ඉලක්කම් කොටු තුළ ලියන්න.

6




04. ශ්‍රී ආර්ථි ඉලක්කමට ගැලපෙන රූප අඳින්න.


3




5




7




1




4




9




8



6



2



05. 1 සිට 9 තෙක් සංඛ්‍යා පත් පහළට පිළිවෙළට තබා ඒවාට අදාළ සංඛ්‍යා නාම පත් ඉදිරියේ තබන්න.

උදාහරණ-

1	එක
2	දෙක

06. සංඛ්‍යාංකය සහ සංඛ්‍යා නාමය නිවැරදිව ලියන්න.

සංඛ්‍යාංකය	සංඛ්‍යා නාමය	සංඛ්‍යා නාමය	සංඛ්‍යාංකය
1	එක	තුන	3
8		පහ	
4		නවය	
2		හතර	
6		එක	
5		හය	
9		අට	
7		දෙක	
3		හත	

සබරගමුව පළාත් අධ්‍යාපන දෙපාර්තමේන්තුව

ගණිතය - 2 ශ්‍රේණිය

සැකසුම - රත්නපුර අධ්‍යාපන කලාපය

නම - පී.වී.වන්දිකා සමන්ලතා

ර/වේවැල්වත්ත කනිෂ්ඨ විද්‍යාලය

04 පාඩම - 1 සිට 9 තෙක් සංඛ්‍යා භාවිත කිරීම









පසු වැඩ කාර්ය පත්‍රිකාව

1. පරණ කැලැන්ඩර කොළයක 1 සිට 9 තෙක් ඉලක්කම් ඇති කොටු තුළ ඉලක්කමට පහළින් අදාළ සංඛ්‍යා නාමය ලියන්න.
2. නවත් කැලැන්ඩර කොළයක් ගෙන 1 සිට 9 තෙක් කොටු තුළ ඒවාට අදාළ රූප ප්‍රමාණ අඳින්න. අගය වැඩි ඉලක්කම්වල ඉලක්කම වටේට රූප අඳින්න.
3. 1 සිට 9 තෙක් අනුපිලිවෙලින් යා කර ලැබෙන රූපය පාට කරන්න.



4. පහත සඳහන් කාඩ්පත් කපා නිවැරදිව ගලපා කාඩ්බෝඩ් එකක අලවන්න.

එය කැලැන්ඩරයක් සේ සකස් කර ඔබේ කාමරයේ එල්ලා තබන්න.

3	පහ	
9	දෙක	
5	හය	
8	තුන	
1	නවය	
7	හතර	
4	එක	
2	හත	
6	අට	