



සිසු සවිය 2022  
05 වන ශ්‍රේණියේ ද පුනුන්ට අත්වැලක්



පස්වන ශ්‍රේණියේ සිසු දරුවන් සඳහා පැවැත්වෙන පෙරහුරු පරීක්ෂණය  
සබරගමු පළාත

I පත්‍රය

පැය 01

විභාග අංකය : .....

සබරගමු පළාත් අධ්‍යාපන දෙපාර්තමේන්තුවේ ප්‍රාථමික අධ්‍යාපන අංශයේ ප්‍රකාශනයකි...

විභාගයට පෙනී සිටින ඔබට උපදෙස් :

- \* ඔබේ විභාග අංකය ඉහත කොටුව තුළ ඇති තිත් ඉර මත ලියන්න.
- \* තුන්වන පිටුවේ ඇති නියමිත ස්ථානයේ ද ඔබේ විභාග අංකය ලියන්න.
- \* මෙම ප්‍රශ්න පත්‍රයේ ප්‍රශ්න 40ක් ඇත. ප්‍රශ්න සියල්ලටම මෙම පත්‍රයේ ම ලියන්න.
- \* පිළිතුරු 3 ක් දී ඇති ප්‍රශ්නවල නිවැරදි පිළිතුර තෝරා යටින් ඉරක් අඳින්න.
- \* පිළිතුරට යටින් ඉරක් අඳින්න කියා ඇති විට ඉරක් පමණක් අඳින්න.

I පත්‍රය ලකුණු :
II පත්‍රය ලකුණු :
මුළු ලකුණු :

විශේෂ අවධානය පිණිස ...

පාසල්වල විදුහල්පතිවරු පංතිභාර ගුරු මහත්ම/මහත්මීන් වෙත...

- 2022/07/19 අගහරුවාදා පාසල්වලට හෝ නිවසේදී පහසු ආකාරයට සිසුන් ට ලියන්න අවස්ථාව ලබාදෙන්න
- ගැටලුවක් ඇතොත් කොට්ඨාසයේ ප්‍රාථමික ගුරු උපදේශක, කලාප විෂය අධ්‍යක්ෂ හෝ පළාත් අධ්‍යාපන දෙපාර්තමේන්තුවේ ප්‍රාථමික අධ්‍යාපන අංශය අමතන්න.
- පිළිතුරු පත්‍රය කලාප කාර්යාලය මගින් ඔබට ලබාගත හැකිය.
- වෙනත් පළාතක, කලාපයක දුරුවෙකුට චුවද මෙය ලබාදීමට කටයුතු කරන්න.
- මේ සඳහා ඔබ දක්වන සහයෝගය අගය කරමි.

සබරගමු පළාත් අධ්‍යාපන දෙපාර්තමේන්තුවේ ප්‍රාථමික අධ්‍යාපන ඒකකය

පළාත් අධ්‍යාපන දෙපාර්තමේන්තුව මගින් ලබාදෙන ආකෘතියට අනුව ලකුණු විශ්ලේෂණ වාර්තා සකස් කළ යුතුය.

I පත්‍රය පැය 01 යි	II පත්‍රය පැය 01 යි මිනිත්තු 15 යි
-----------------------	---------------------------------------

- ලකුණු විශ්ලේෂණ වාර්තා අනුව දරුවන් සඳහා ප්‍රතිපෝෂණ සිදුකළ යුතුය.
- මෙදිනට කිරීමට අනපසුවන දරුවන් සඳහා ද මෙය පසු දිනක කළ හැකි බව ද දන්වමි.
- ඉතාමත් සතුටින් හා විනෝදයෙන් මෙම ප්‍රශ්න පත්‍රය ලිවීමට ශක්තිය ලැබේවායි ප්‍රාර්ථනා කරමි.

සබරගමු පළාත් අධ්‍යාපන දෙපාර්තමේන්තුවේ ප්‍රාථමික අධ්‍යාපන ඒකකය

• අංක 01 සහ 02 ප්‍රශ්න සඳහා මූලික දී ඇති රූපයට සමාන රූපය තෝරන්න.

01.



1.




2.




3.




02.




1.



2.



3.



• අංක 03 සහ 04 ප්‍රශ්නවල දී ඇති රූප නිරීක්ෂණය කර පිළිතුරු සපයන්න.

03.



A රූපය



B රූපය


A හා B රූප දෙක අතර වෙනස්කම් ගණන කීය ද?

1. 3


2. 4

3. 5

04.



C රූපය



D රූපය

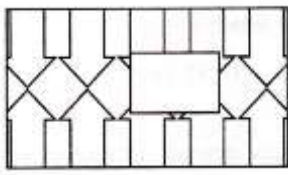
C හා D රූප දෙක අතර වෙනස්කම් ගණන කීය ද?

1. හතරකි

2. හතරට අඩුය

3. හතරට වැඩිය

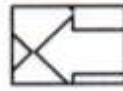
05. මෙම රූපය නිවැරදිව සම්පූර්ණ කිරීමට අවශ්‍ය කොටස තෝරන්න.




1.



2.



3.



• පහත කවිය කියවා අංක 06 සහ 07 ප්‍රශ්නවලට පිළිතුරු සපයන්න

ගස් නැති දා දිය නැත

දිය නැති දා අප නැත

ගස් රැකීම මිහි මත

යුතුකම වෙයි අප අත

06. කවියේ සඳහන් "මිහි" යන්නෙහි අදහස වන්නේ,

1. අහස

2. සයුර

3. දෙරණ

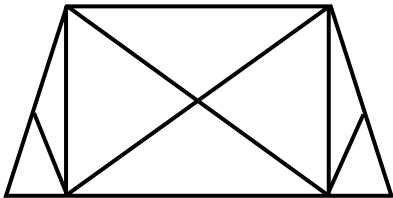
07. මෙම කවියේ සමස්ත අදහසින් පැවසෙන්නේ,

1. ජල සම්පත රැක ගත යුතු බවයි

2. වන සම්පත රැක ගත යුතු බවයි

3. ජලය නැති දා ගස් නැති බවයි

08. මෙම රූපයේ ඇති ත්‍රිකෝණ ගණන කීය ද?

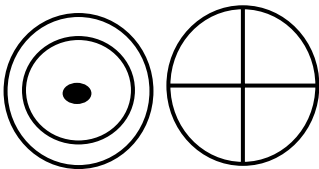


1. 16


2. 14

3. 12

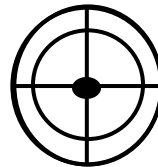
09. මූලින් දී ඇති රූප දෙක එක මත එක තැබූ විට ලැබෙන රූපය තෝරන්න.



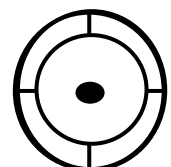
1.



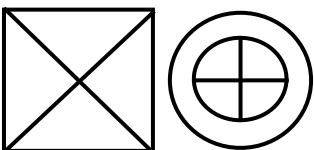
2.




3.




10.




1.



2.



3.














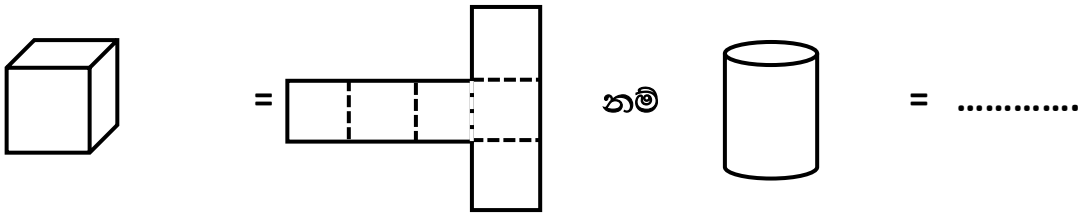
• අංක 37 සහ 38 ප්‍රශ්නවලට හිස්තැනට ගැළපෙන රූපය තෝරන්න.

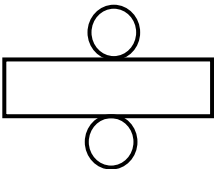


37.



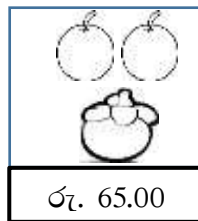
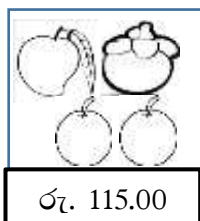
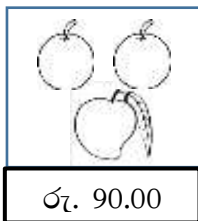
1.                       2.                       3. 

38.



1.                       2.                       3. 

• පලතුරුවල මිල ගණන පහත දැක්වේ.



39. මැංගුස් ගෙඩියක මිල කීය ද?

1. රු. 20.00                      2. රු. 30.00                      3. රු. 25.00

40. අඹ ගෙඩියක්, දොඩම් ගෙඩියක් සහ මැංගුස් ගෙඩියක් ගැනීමට යන මුදල කීය ද?

1. රු. 95.00                      2. රු. 105.00                      3. රු. 125.00