



සබරගමුව පළාත් අධ්‍යාපන දෙපාර්තමේන්තුව


2 ශ්‍රේණිය - ගණිතය / දෙවන වාරය / 1- සතිය

සැකසුම - රත්නපුර කලාප අධ්‍යාපන කාර්යාලය



ඒ. එම්. එම්. ඩී. කුමාරි - ර/ ජේසු බිලිඳගේ කන්‍යාරාම ජාතික පාසල

12 පාඩම - ද්‍රව්‍ය රූප ගණන් කිරීම



1) ගණේ කුඩා කඩදාසි මල් 20 ක් අලවන්න.



2) පහත රූප හරි ලකුණු යොදමින් ගණන් කරන්න. ගණන කුඩා කොටුවේ ලියන්න.



3) දී ඇති ගණනට රූප අඳින්න.



4) අත්පුඩා ගසමින් 50ට ගණන් කරන්න.

5) පඩලු ඇට හෝ බොත්තම් 50කින් මාලයක් හඳුන්වන්න.