



සබරගමු පළාත් අධ්‍යාපන දෙපාර්තමේන්තුව - සති පාසල

තොරතුරු හා සන්නිවේදන තාක්ෂණය

10 ශ්‍රේණිය

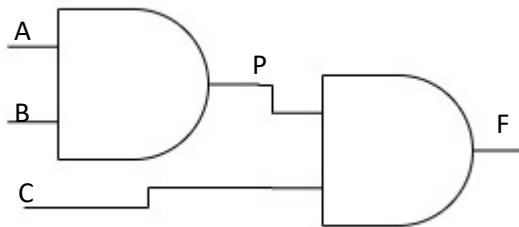
A.S.M.C.G. සමරකෝන් - කැ/දෙහි/අමෙතිරිගල මහා විද්‍යාලය

නිපුණතාවය - 4.0 බුලියානු තර්කය යොදාගෙන තාර්කික ද්වාර ඵලදායී ලෙස භාවිත කරයි.

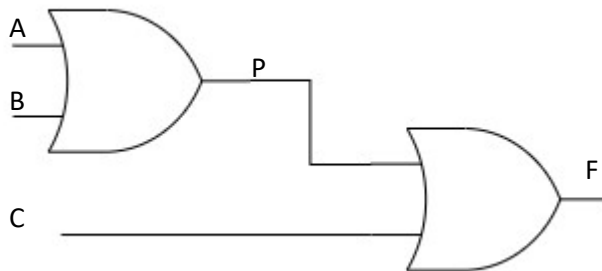
නිපුණතා මට්ටම - 4.1 මූලික තර්ක කාරක හඳුනාගෙන ඒවායේ ක්‍රියාව පහදා දීමට තර්ක වගු නිර්මාණය කරයි.

පෙළ පොතෙහි 115 පිටුවේ සිට 126 පිටුව දක්වා අධ්‍යයනය කරන්න.

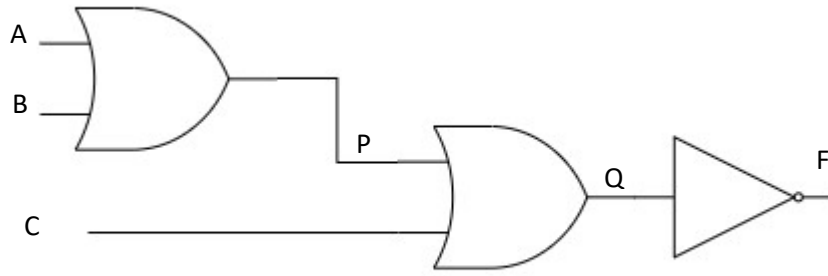
1. පහත දැක්වෙන තාර්කික පරිපථ තුල්‍ය වන තනි තාර්කික ද්වාරය නම් කර සත්‍යතා වගු ඇසුරෙන් සනාත කරන්න.
 - a.



b.



c.



d.

