



සබරගමුව පළාත් අධ්‍යාපන දෙපාර්තමේන්තුව

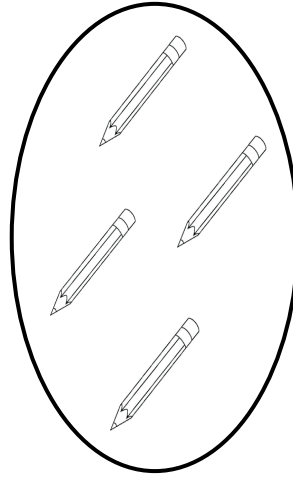
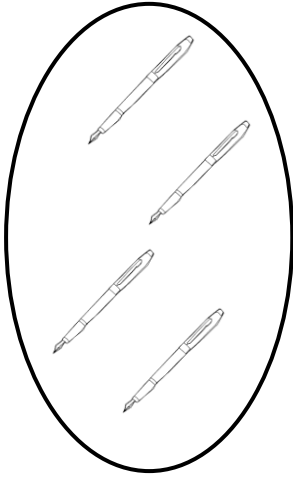
1 ශ්‍රේණිය - ගණිතය / දෙවන වාරය / ජුනි මස 2 සතිය

සැකසුම - රත්නපුර කලාප අධ්‍යාපන කාර්යාලය


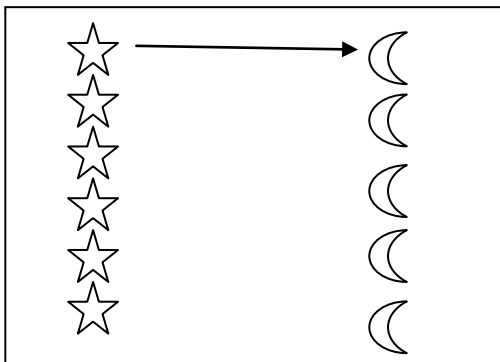
ඒ. එම්. එම්. ඩී. කුමාරි - ර/ ජේසු බිලිඳුගේ කනකාරාම ජාතික පාසල

17 පාඩම - සංඛ්‍යාවක අවිචලනාව අවබෝධ කර ගැනීම.

1) එකට එක යා කරමින් පහත ගොඩවල්වල ද්‍රව්‍ය සමාන දැයි බලන්න.



2) පහත රූප එකට එක යා කර ගොඩවල් සමානදැයි බලන්න.



3) පහත කොටු දැලෙහි තිත් තබා ඇති කොටු පාට කරන්න. එක් එක් රටාවේ ඇති කොටු ගණන ගණන් කරන්න.

										
	
										
			.														.	
			.														.	
.			
.	.										.						.	
.							