



மாகாண கல்வித் திணைக்களம் - வாராந்தப் பாடசாலை

பாடம்: சித்திரம்

வாரம் - 6

தரம்: 11




ஆக்கம்: ஆசிரியை S.கற்பகம்
கே/ கோலிந்தா தமிழ் கனிஷ்ட வித்தியாலயம்

தலைப்பு:- பொலன்னறுவை கால சிற்பங்கள்

கல்விகாரை சிற்பங்கள்

பொத்குல் விகாரை சிற்பம்

மேலே காணப்படும் ஒளிப்படங்களை அடிப்படையாகக் கொண்டு பின்வரும் வினாக்களுக்கு விடை தருக



1. கல்விகாரையின் வேறு பெயர்களை தருக.
2. கல்விகாரையில் காணப்படும் புத்தர் சிலைகள் எத்தனை?
3. இங்கு காணப்படும் புத்தர் சிலைகளின் நிலை, மரபினை குறிப்பிடுக?
4. கல்விகாரை புத்தர் சிலைகள் எவ்வெளத்த மத எண்ணக்கருவை வெளிப்படுத்துகிறது?
5. பராக்கிரமபாகு சிலை பற்றி முன்வைத்த கருத்துக்களை குறிப்பிடுக?
6. ஒரே கல்லில் புடைப்புச்சிற்பமாக அமைத்த பராக்கிரமபாகு சிலை நிற்கும் நிலை யாது?
7. இச்சிலையின் கையில் காணப்படும் அரசாட்சியை குறிக்கும் பொருள் யாது?
8. பின்வரும் தலைப்புகளில் ஒளிப்படங்களை மதிப்பீடு செய்க

1. இனம் காண்க:-
2. காலம்/யுகம் :-
3. ஊடகம் :-
4. நுட்பமுறை:-
5. முத்திரை :-
6. ஆசனமுறை :-
7. ஆசனம் :-
8. ஆடையமைப்பு :-
9. உணர்வு வெளிப்பாடு :-