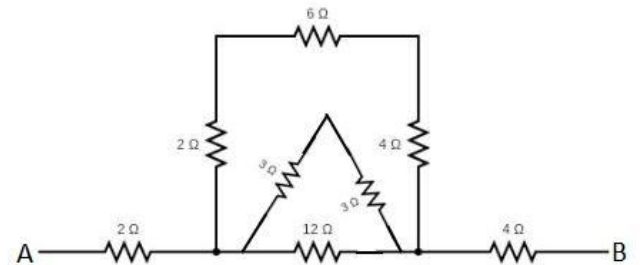
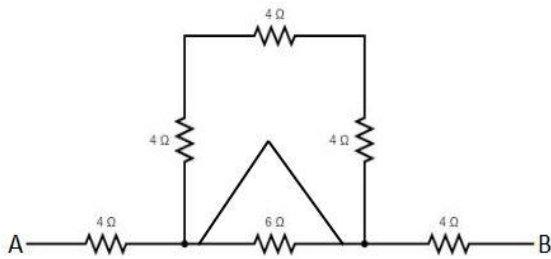
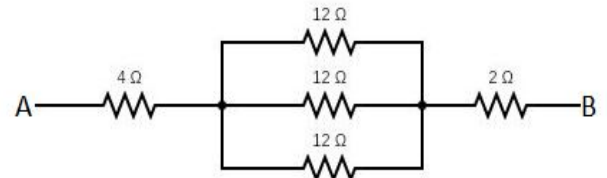
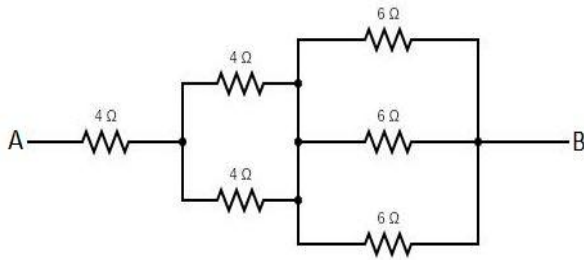
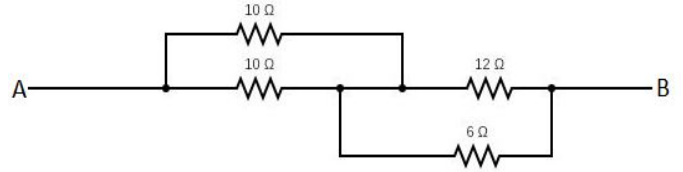
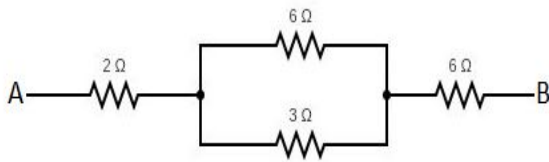


තාක්ෂණවේදය සඳහා විද්‍යාව - 12 ශ්‍රේණිය

ප්‍රතිරෝධක කිහිපයක් ශ්‍රේණිගතව හා සමාන්තරගතව සම්බන්ධ කර ඇති අවස්ථාවලදී එහි සමක ප්‍රතිරෝධය ලබා ගන්නා ආකාරය අධ්‍යයනය කර පහත පරිපථ සටහන්වල A හා B අතර සමක ප්‍රතිරෝධයන් ගණනය කරන්න



සැකසුම - B.R.S. ප්‍රේමරත්න

සුමනා බාලිකා විද්‍යාලය - රත්නපුර අධ්‍යාපන කලාපය