







තොරතුරු හා සන්නිවේදන තාක්ෂණය

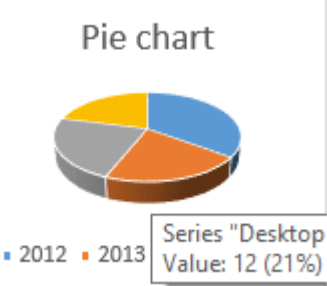
7 පාඩම - නිපුණතාව : පැතුරුම්පත් භාවිතා කර ප්‍රස්තාර මගින් දත්ත පැහැදිලි ලෙස ඉදිරිපත් කරයි

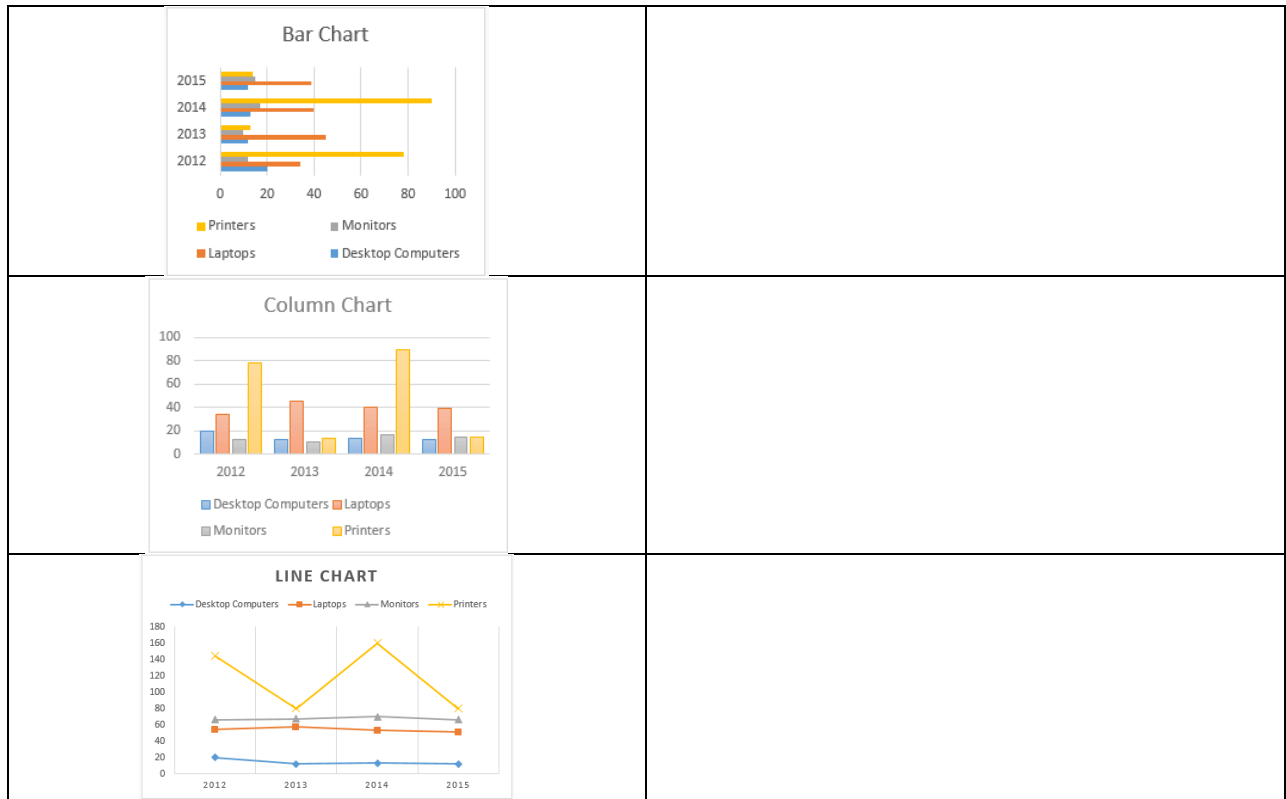
01 පහත දක්වා ඇති දත්ත සඳහා තීරු ප්‍රස්තාරයක් නිර්මාණය කළ යුතුව ඇත අදාළ පියවර ලියා දක්වන්න

| Item | 2012 | 2013 | 2014 | 2015 |
|-------------------|------|------|------|------|
| Desktop Computers | 20 | 12 | 13 | 12 |
| Laptops | 34 | 45 | 40 | 39 |
| Monitors | 12 | 10 | 17 | 15 |
| Printers | 78 | 13 | 90 | 14 |

02 ඉහත දත්ත ඇසුරෙන් නිර්මාණය කරන ලද ප්‍රස්තාර කිහිපයක් පහත දැක්වේ එම ප්‍රස්තාර ලබා ගැනීමට අදාළ මෙවලමේ වලට අදාළ අකුර අදාළ ප්‍රස්තාර වර්ගය ඉදිරියෙන් සඳහන් කරන්න

| | | | |
|---|---|--|---|
|  |  |  |  |
| A | B | C | D |

| | |
|--|--|
| <p>Pie chart</p>  | |
|--|--|



03)පහත ප්‍රස්තාරයේ A හා B කොටස් ලබා ගැනීමට අවශ්‍ය පියවර ලියා දක්වන්න

