




සබරගමුව පළාත් අධ්‍යාපන දෙපාර්තමේන්තුව
2 ශ්‍රේණිය - ගණිතය / දෙවන වාරය - අගෝස්තු මස 1 සතිය
සැකසුම - රත්නපුර කලාප අධ්‍යාපන කාර්යාලය
ඒ. එම්. එම්. ඩී. කුමාරි - ර/ ජ්‍යෙෂ්ඨ බිලිඳාගේ කන්‍යාරාම ජාතික පාසල

පුනරීක්ෂණ අභ්‍යාස

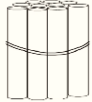

දරුවන් අපි පුංචි පුංචි අභ්‍යාස කීපයක් කරන්න උත්සහ කරමු. මේ බලන්න, හරිම විනෝදෙන් කරන්න පුළුවන් දේවල් ටිකක්.

1. රූපයේ ඇති මිදි ගෙඩි ගණන ගණන් කරමින් පාට කරන්න.



මිදි ගෙඩි ගණන කිය ද?

2. ඉරටුවලින් හෝ බීම බටවලින් පහත සංඛ්‍යා නිරූපණය කරන්න. ඔබ නිරූපණය කළ ආකාරය මෙහි අඳින්න.

සංඛ්‍යාව	දහයේ ඒවා	එකේ ඒවා
13		
15		
17		
18		
20		

3. එකතු කරන්න.

1) $1 + 7 = \dots\dots\dots$

2) $8 + 8 = \dots\dots\dots$

3) $3 + 11 = \dots\dots\dots$

4) $4 + 9 = \dots\dots\dots$

5) $5 + 7 = \dots\dots\dots$

6) $9 + 5 = \dots\dots\dots$

ඔන්න දරුවන් අද කොටස අවසන්. අපි ආයෙත් හමු වෙමු. ගිහින් එන්නම්...

