






උපදෙස්

සංකේත වලට ගැලපෙන අදහස් සොයා යා කරන්න.

+	බෙදුණ
kg	හතර
6	y අක්ෂරය
-	අඩු කරන්න
cm	දුම්බිම තහනම්
iv	පාසල ඉදිරියෙහි
÷	එකතු කරන්න
	කිලෝග්‍රෑම්
	හය
<	ජංගම දුරකථන භාවිතය තහනම්
y	සෙන්ටිමීටර
	වඩා අඩු බව

- ඔබ ඉහත කල ක්‍රියාකාරකමට අනුව භාවිතා කිරීම වඩාත් පහසු සම්මත සංකේත ද ? විස්තර කිරීම ද?.
- මේ අනුව ගණිතයේදී භාවිතා කරන සම්මත සංකේත 4 ක් සඳහන් කරන්න.



උපදෙස්

පහත දැක්වෙන ප්‍රශ්නවලට පිළිතුරු සපයන්න.

- 1) වෙළඳපොළෙහි පොල් ගෙඩියක මිල කීයද ?
- 2) ක්‍රිකට් කණ්ඩායමක ක්‍රීඩා කරන ක්‍රීඩකයින් ගණන කීයද ?
- 3) දෙහි 1kg ක ඇති දෙහි ගෙඩි ගණන කීයද ?
- 4) අවුරුද්දට ඇති මාස ගණන කීයද ?
- 5) දවසකට ඇති පැය ගණන කීයද ?
- 6) කෙසෙල් කැනක ඇති ගෙඩි ගණන කීයද?
- 7) ඔබ භාවිතා කරන ගණිතය I පෙළ පොතෙහි පිටු ගණන කීයද ?
- 8) ඔබේ පවුලේ සාමාජිකයින් ගණන කීයද ?

