



පළාත් අධ්‍යාපන දෙපාර්තමේන්තුව - සබරගමුව

විෂය - චිත්‍ර

ශ්‍රේණිය - 6

සැකසුම - උපුටි චතුරානි ධර්මසේන  
මාචනැල්ල අධ්‍යාපන කලාපය

### ක්‍රියාකාරකම - 7.1.1

බෞද්ධ ස්තූපයක මූලිකාංග හා ස්තූප වර්ග හඳුනා ගනිමු.

- තූපය, වෛත, දාගැබ යන නම් වලින්ද ස්තූපය හඳුන්වයි.
- බෞද්ධයින්ගේ පූජනීය වස්තුවකි.
- බුදුවරුන්ගේ, පසෙග බුදුවරුන්ගේ, රහතන් වහන්සෙලාගේ, සක්විති රජවරුන්ගේ ශරීරික තැන්පත් කර වෛත්‍ය නිර්මාණය කල බව සඳහන් වේ.
- ලක්දිව ඉදි කල පළමු දාගැබ දේවානම් පියතිස්ස රජු විසින් ඉදි කල චූපාරාම දාගැබයි.
- ශ්‍රී ලංකාවේ වෛත්‍ය නිර්මාණය සඳහා ඉන්දියාවේ සාංචි ස්තූපයේ ආභාසය ලැබී ඇතැයි සැලකේ.

උදාහරණ

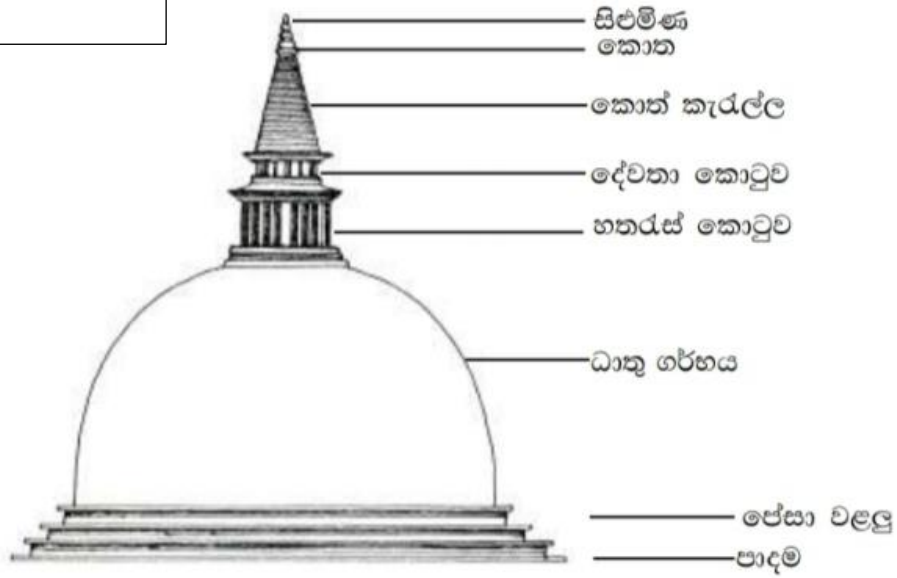
ශ්‍රී ලංකාවේ වෛත්‍ය වල හතරැස්කොටුව යන අංගය සාංචි ස්තූපයේ හර්මිකාව ලෙස හඳුන්වයි.



ඉන්දියාවේ සාංචි ස්තූපය


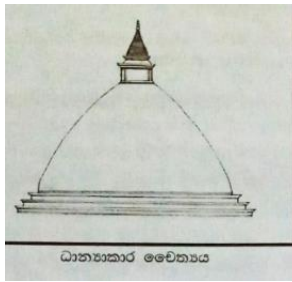
හර්මිකාව

ස්තූපයක මූලිකාංග



ස්තූපයේ ගර්භයේ හැඩය අනුව ස්තූප වර්ග කරයි.

1. ධාන්‍යාකාර හැඩය - වී ගොඩක හැඩය (කැලණි වෛත්‍ය)
2. බුබුලාකාර හැඩය - දිය බුබුලක හැඳය (රුවන්මැලි මහාසෑය)
3. සණ්ඨාකාර හැඩය - සිනුවක හැඩය (ථූපාරාම වෛත්‍ය)
4. ස්ථාකාර හැඩය - කළයක් මුණින් නැමූ හැඩය)
5. අම්ලාකාර හැඩය - (නෙල්ලි ගෙඩියක හැඩය)
6. පද්මාකාර හැඩය - (නෙළුම් මලක හැඩය)



අභ්‍යාස

1. වෛත්‍යක් ඇඳ කොටස් නම් කරන්න.
2. හර්මිකාව යනුවෙන් හඳුන්වන්නේ කුමක්ද?
3. ශ්‍රී ලංකාවේ ඉපැරණි වෛත්‍ය කිහිපයක් නම් කර ඒවා පිහිටි ස්ථාන හා හැඩ වගු ගත කරන්න.
4. පහත රූප සටහන් වලින් දැක්වෙන වෛත්‍ය හැඩ හඳුනා ගෙන නම් කරන්න.



5. ශ්‍රී ලංකාවේ වෛත්‍ය නිර්මාණ පිළිබඳ ඓතිහාසික කරුණු රැස් කරන්න.

