



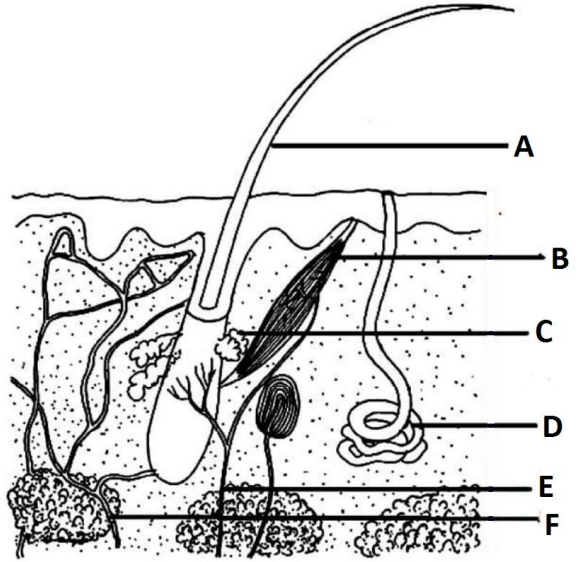
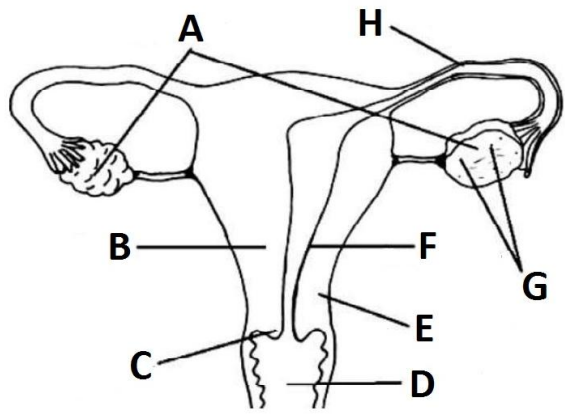
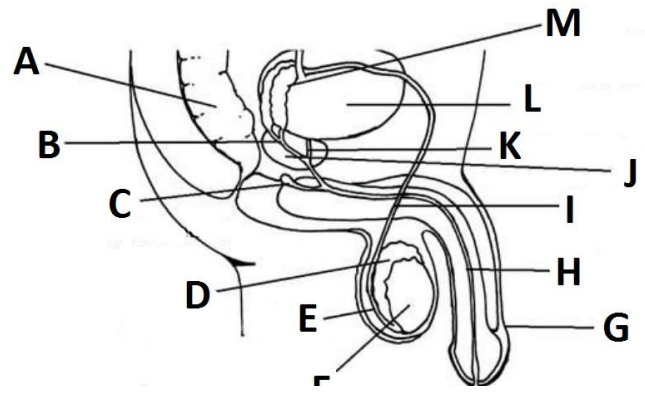
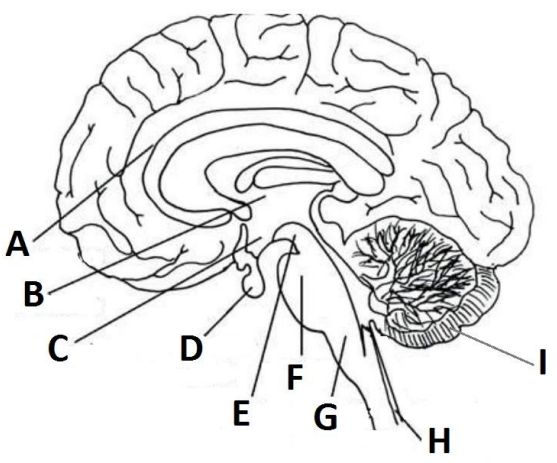
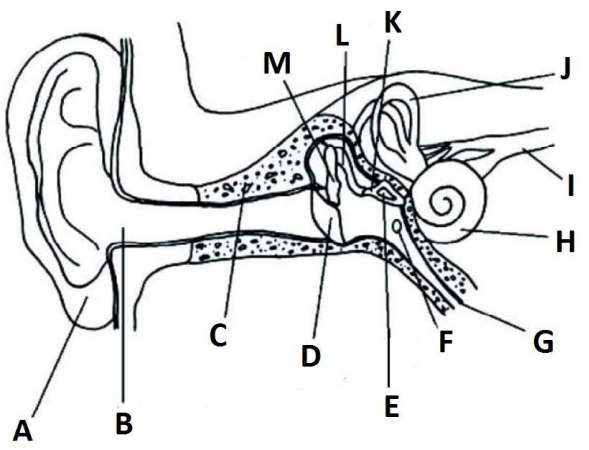
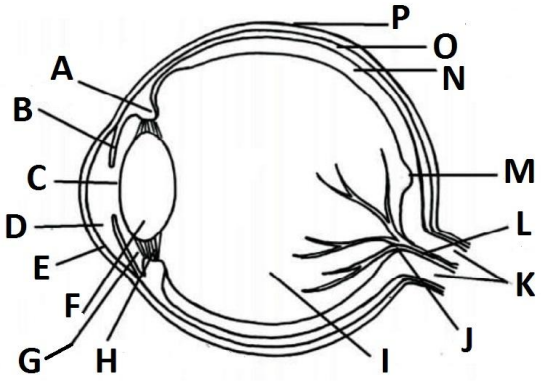
විෂය: ජීව විද්‍යාව

සති- 05

ශ්‍රේණිය: 13

සැකසුම : එම්.පී. ප්‍රසන්න වීරසේකර B.Sc

පහත රූප සටහන්වල ඉංග්‍රීසි අක්ෂර වලින් දක්වා ඇති කොටස් නම් කරන්න



පහත ප්‍රශ්නවලට පිළිතුරු ලියන්න

01.

- a) මිනිස් වෘක්කවල පිහිටීම විස්තර කරන්න
- b) මිනිස් වෘක්කවල ව්‍යුහය කෙටියෙන් විස්තර කරන්න
- c) මිනිසාගේ ශුක්‍රාණුජනන ක්‍රියාවලිය කෙටියෙන් පැහැදිලි කරන්න

02.

- a) මිනිසාගේ පෙනහැලි වාතනය වීමේ යාන්ත්‍රණය විස්තර කරන්න
- b) මිනිසාගේ හුස්ම ගැනීම සමස්ථිතික ලෙස පාලනය වන ආකාරය පැහැදිලි කරන්න

03.

- a) මිනිස් ඇසේ මූලික ව්‍යුහය කෙටියෙන් විස්තර කරන්න
- b) දෘෂ්ටියේදී මිනිස් ඇස හා මොළය ක්‍රියාත්මකවන ආකාරය පැහැදිලි කරන්න

04. ස්ත්‍රීන්ගේ ඔසප් වක්‍රය හා එහි හෝර්මෝනමය යාමනය විස්තර කරන්න

05. පහත සඳහන් මාතෘකා පිළිබඳව කෙටි සටහන් ලියන්න

- a) ස්වාභාවික වරණ වාදය
- b) මිනිසාගේ හෘත් වක්‍රය
- c) ක්ලෝනකරණ වාහක

\*\*\*\*\*