



සබරගමුව පළාත් අධ්‍යාපන දෙපාර්තමේන්තුව

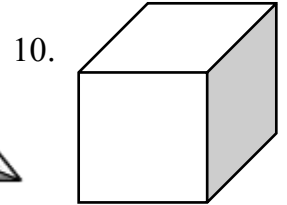
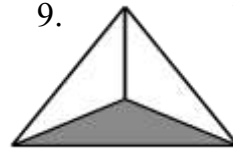
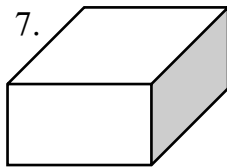
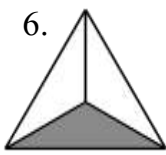
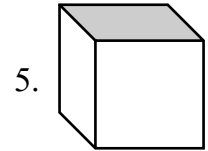
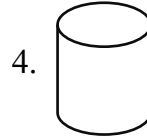

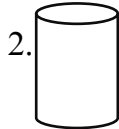
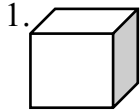
5 ශ්‍රේණිය - ගණිතය - දෙවන වාරය - 4 සතිය

සැකසුම - රත්නපුර අධ්‍යාපන කලාපය

ටී.එම්. කෝකිලා දමයන්ති - ර/කිරිඇල්ල ශ්‍රී දේවරක්ඛිත ප්‍රාථමික විද්‍යාල

හැඩ හා සන වස්තු

01. පහත වගුව සම්පූර්ණ කරන්න.




	සන වස්තුව	සන වස්තුවේ හැඩය දැකිය හැකි රූපවල අංක
01	සනකය	
02	සනකාභය	
03	සිලින්ඩරය	
04	වතුස්තලය	

02. සන වස්තුවල ලක්ෂණ ඇසුරින් වගුව පුරවන්න.

	සන වස්තුව	සන වස්තුවේ නම	දාර ගණන	මුහුණත් ගණන	ශීර්ෂ ගණන
01					
02					
03					

03.



සන වස්තුවේ නම -.....

මුහුණත් ගණන -.....

වක්‍ර දාර ගණන -.....

04. තිරස්තල හා සිරස්තලවලට උදාහරණ ලියා වගුව පුරවන්න.

	තිරස්තල	සිරස්තල
1	ගෙබ්ම	බිත්තිය
2		
3		
4		
5		

(පෙළ පොතේ පිටු අංක 73 සිට 78 තෙක් අභ්‍යාස කරන්න)