

උපදෙස්

☞ ඔබ දන්නා මිශ්‍රණ සඳහා භාවිතා කර ඇති ද්‍රව්‍ය ඇසුරින් පහත වගුව සම්පූර්ණ කරන්න (ද්‍රව්‍ය 2 ක් පමණක් සඳහන් කිරීම ප්‍රමාණවත් වේ).









මිශ්‍රණය	භාවිතා කරන ද්‍රව්‍ය	භාවිතා කරන ප්‍රමාණය
උදා : තේක් මිශ්‍රණය	පිටි සීනි	250g 2500g
කිරි හේ කෝප්පයක්	කිරිපිටි සීනි
බදාම මිශ්‍රණය
.....
.....





උපදෙස්

මම සහ නංගී පන්සල් යාමට මල් කැඩූ ආකාරය පහත දැක්වේ. රටාව අනුව හිස්තැන් පුරවන්න. පාට කරන්න.

මම	නංගී	මම : නංගී
		<p>2 : 1</p>
		
		
		

- ඉහත වගුවට අනුව සෑම අවස්ථාවකම මම කඩන මල් ප්‍රමාණය නංගී කඩන මල් ප්‍රමාණය මෙන් කී ගුණයක් ද ?



පහත දැක්වෙන වගුව සම්පූර්ණ කරන්න.



ප්‍රකාශනය	අනුපාතිකයක් ලෙස ලිවිය හැකිය / නොහැකිය	එයට හේතු
රෙදි 2m මිල රු. 200 කි	හැකිය	ඒකක වර්ග දෙකකින් මැන තිබීම
සාප්තෝණාශ්‍රයක දිග 10m කි. පළල 5m කි.		
ඉන්ධන 2l කින් වාහනයකට 60නැම දුරක් යා හැකිය.		
ඇමරිකන් ඩොලර් 1 ක් රු. 165 කි.		
පිරි 500g කට සීනි 200g ක් යෙදීමෙන් රසකැවිලි මිශ්‍රණයක් සාදයි		

