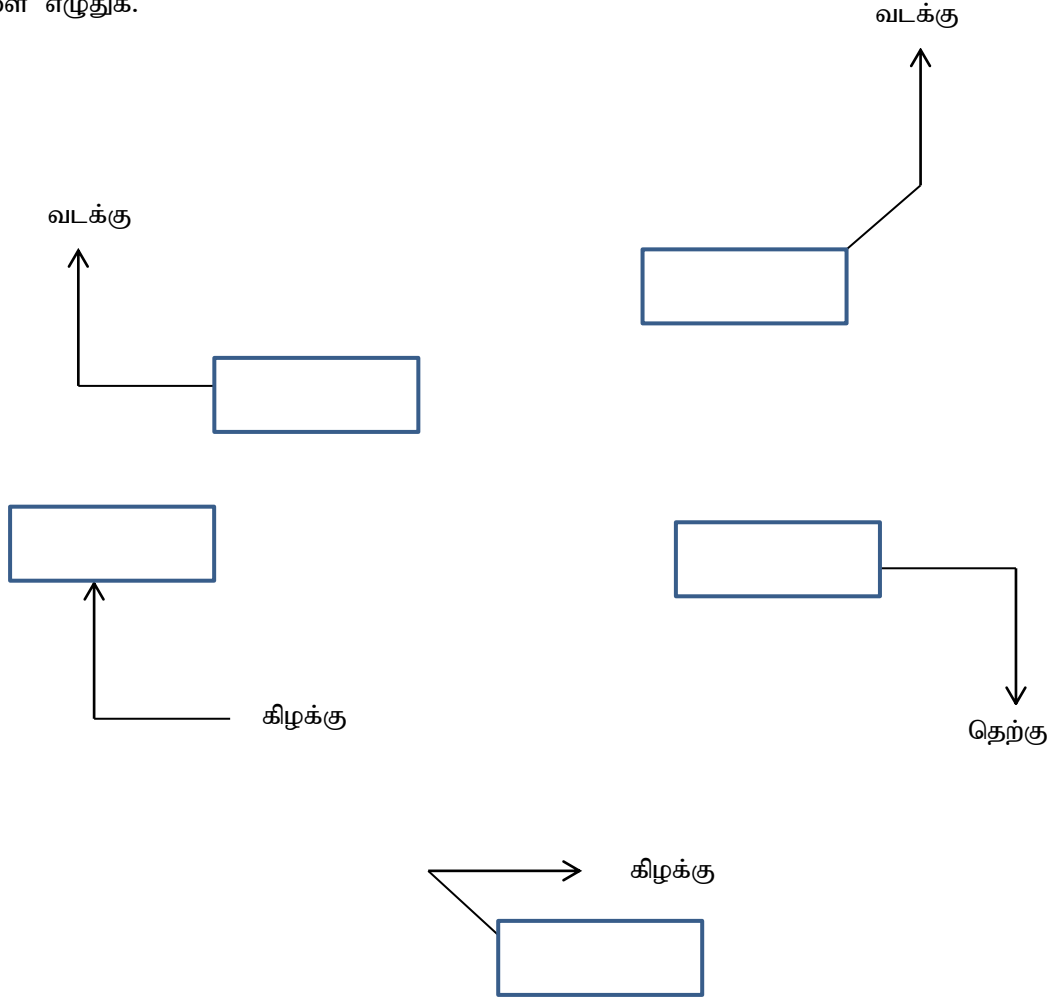


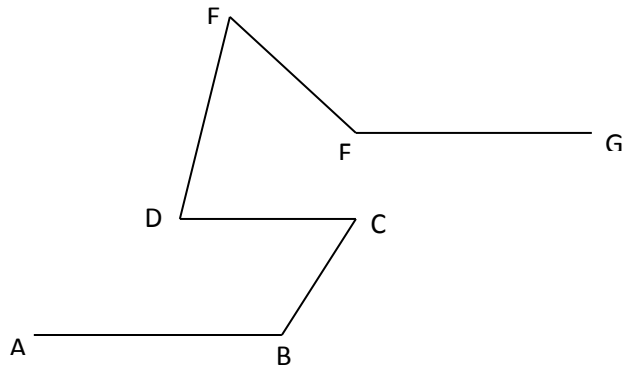


கீழே காட்டப்பட்டுள்ள வெற்றுக்கட்டங்களுக்குப் பொருத்தமான திசைகளை எழுதுக.



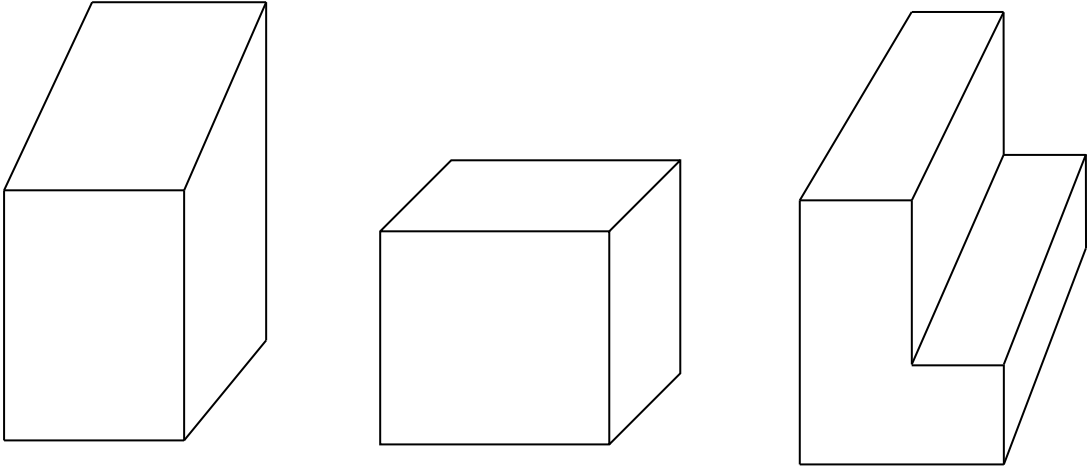
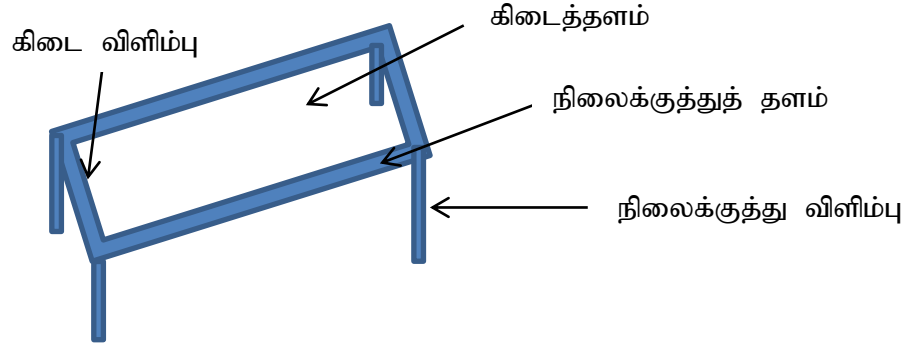
- பாடப்புத்தகத்தில் 112 முதல் 115 ஆம் பக்கங்கள் வரையுள்ள பயிற்சி 8.2 ஐப் பூரணப்படுத்துக.

உருவில் A முதல் G வரையுள்ள பயணப்பாதையை திசைகளுடன் விபரிக்க



- பாடப்புத்தகத்தில் 116, 117 ஆம் பக்கங்களை நன்றாக விளங்கிக் கொள்க.
- கிடைத்தளம், நிலைக்குத்துத் தளம், கிடைவிளிம்பு, நிலைக்குத்து விளிம்பு என்பவற்றை சரியாக விளக்குக.

கீழுள்ள உருவில் கிடைத்தளம், நிலைக்குத்துத் தளம், கிடை விளிம்பு, நிலைக்குத்து விளிம்பு என்பவற்றைப் பெயரிடுக.



கிடைத்தளத்திலுள்ள எந்தவொரு நேர் கோடும் கிடைக்கோடு ஆகும். எனினும் நிலைக்குத்துத் தளத்திலுள்ள எல்லாக் நேர் கோடுகளும் நிலைக்குத்துக் கோடாகாது.

- பாடப்புத்தகத்தில் 117, 118 ஆம் பக்கங்களை நன்றாக விளங்கிக் கொள்க.
- பாடப்புத்தகத்தில் 118, 119 ஆம் பக்கங்களிலுள்ள பயிற்சி 8.3 ஐப் பூரணப்படுத்துக.
- உமக்கு ஏற்படும் சந்தேகங்களைத் தீர்த்துக் கொள்வதற்கு முயற்சிக்கவும்.
- பாடப்புத்தகத்தில் 122 ஆம் பக்கத்திலுள்ள மீட்டர் பயிற்சியின் 12ஆம் வினாவிற்குச் சரியாக விடையளிக்கவும்.