

සබරගමුව පළාත් අධ්‍යාපන දෙපාර්තමේන්තුව  
 சபரகமுவ மாகாண கல்வித் திணைக்களம்  
 Subaragamuwa Provincial Department of Education

පළමු වන වාර පරීක්ෂණය - 2018  
 முதலாம் தவணைப் பரீட்சை - 2018  
 first Team Test - 2018

6 ශ්‍රේණිය  
 தரம் - 06  
 Grade - 06

ගණිතය  
 கணிதம்  
 Mathematics

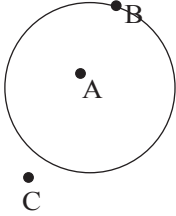
පැය දෙකයි  
 இரண்டு மணித்தியாலம்  
 Two hours

සැද්දේ : .....

වகுப்பு:.....

☀️ எல்லா வினாக்களுக்கும் விடை தருக.

(01)

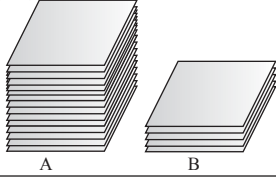


உருவில்

- i. வட்டத்தின் மீது அமைந்த எழுத்து யாது?  
 ii. வட்டத்தின் வெளியே அமைந்த எழுத்து யாது?

(02) பெருக்குக  $322 \times 4$

(03)



ஒரே அளவான புத்தக கட்டுகள் படத்தில் காட்டப்பட்டுள்ளது B யில் உள்ள புத்தகங்கள் 20 எனின் Aயில் உள்ள புத்தகங்களின் எண்ணிக்கையை மதிப்பீடு செய்து எழுதுக.

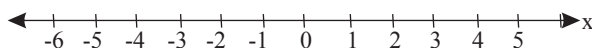
(04) நிமலாவும் கமலாவும் இனிப்புக்களை சமமாக பகிர்ந்து கொண்ட விதம் உரு காட்டுகிறது எதிர்பாராமல் ரியானா அவர்களுடன் சேரந்தார் எனின் அவ் இனிப்புக்களை மூவரும் பகிர்ந்து கொண்ட விதத்தை வரைந்து காட்டுக.

நிமலா (○○○○○○○○) கமலா (○○○○○○○○)

(05) பூசனிக்காய் 500g விலை ரூபா 43  
 கரட் 250g விலை ரூபா 31  
 பூசனிக்காய் 500g யையும் கரட் 250g யும் விலைக்கு வாங்குவதற்கு தேவையான முழு பணத்தை கிட்டிய 10 இற்கு தருக

(06)  $20 \div 6$  இங்கு விடையாக பெறப்பட்ட பெறுமானமானது 40ஐ போன்று எத்தனை மடங்காகும்?  
 $x \underline{\quad 6 \quad}$

(07) கீழே தரப்பட்ட எண்கோட்டின் மீது -3 க்கும் பெரிய மறை நிறையெண்களை குறித்து காட்டுக.



(08) இடைவெளிக்கு பொருத்தமான பெறுமானத்தை எழுதுக.

$$148 + \square 4 = \square 02$$

(09) -2 இற்கும் 1 க்கும் இடையில் உள்ள நிறை எண்கள் எவை ?

(10) தரப்பட்ட எண்களை கிட்டிய 10 க்கு மட்டம் தட்டுக

I 76 .....

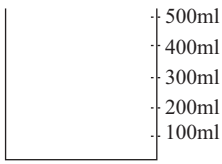
II. 35 .....

(11) < அல்லது > ஆகிய குறியீடுகளை பயன்படுத்தி இடைவெளி நிரப்புக.

I . -2 ..... 0

II. -4 ..... -8

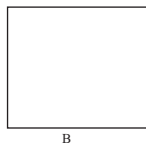
(12) இங்கு காணப்படும் பாத்திரத்தில் ஜானு 125 ml நீர் ஊற்றினார். அதன் பின் ரஷ்மிதா 275ml நீரை ஊற்றினார் எனின் தற்போது பாத்திரத்தில் உள்ள முழு நீரின் அளவை குறித்து காட்டுக



(13) 3,7, 2, 1 ஆகிய எண்களை ஒரு தடவை மாத்திரம் பயன்படுத்தி எழுதக்கூடிய மிக பெரிய , மிக சிறிய எண்களின் வித்தியாசம் எவ்வளவு ?

(14) 4 , -5 -2 , 1 , 0 ஆகிய எண்களை ஏறுவரிசைப்படுத்தி எழுதுக.

(15)



உரு A ஆனது உரு B யின் எத்தனை மடங்காகும்?

(16) 1 இற்கும் 9 கும் இடையில் உள்ள மூன்றின் மடங்குகள் அனைத்தையும் எண்கோட்டில் குறித்துகாட்டுக.

(17) கயானி ஞாயிற்று கிழமை நாள் ஒன்றில் 80 நிமிடம் கற்றலில் ஈடுப்பட்டார். பவித்ரா 1 மணி 15 நிமிடம் நேரம் கற்றலில் ஈடுப்பட்டார். இருவரில் கூடியநேரம் கற்றலில் ஈடுப்பட்டவர் யார் என காரணங்களுடன் காட்டுக.

(18)

A

B

-2 இற்கும் 3 இற்கும்

(-2, 1, 0, 1, 2)

-4 இற்கும் 1 இற்கும்

(-3, -2, -1, 0)

(-1, 0, 1, 2)

மேலே A இல் உள்ள இரண்டு நிறை எண்களுக்கு இடையிலான நிறை எண் கூட்டத்தை B இல் தெரிவு செய்து இணைக்குக

(19) நேர்க்கோணமும் செங்கோணமும் இணையும் போது எவ்வகையான கோணம் உருவாகும் ?

(20) இடைவெளி நிரப்புக

சமனிலி

சொற்களில்

I.  $-4 < 2$

.....

II. ....

பூச்சியம் பெரிது மறை முன்றிலும்