

சபரகமுவ மாகாணக் கல்வி திணைக்களம்
கணிதம் - தரம் - 7
வாராந்த பாடசாலை இல - 01 (முதலாம் தவணை)
அலகு - இருபுடைச் சமச்சீர்

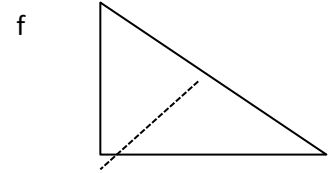
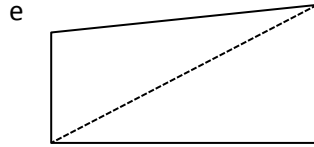
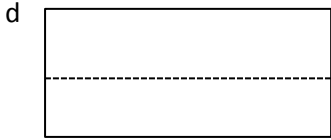
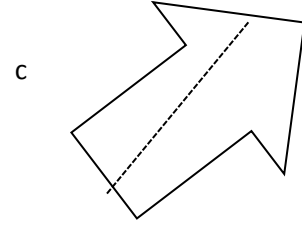
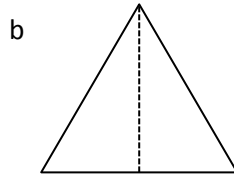
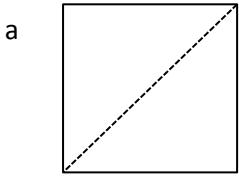
ஆசிரியர் -R.லலித்
இ/ப/பின்னவலை த.ம.வி

❖ எல்லா வினாக்களுக்கும் விடை எழுதுக.


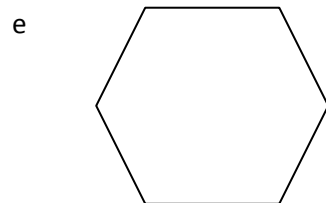
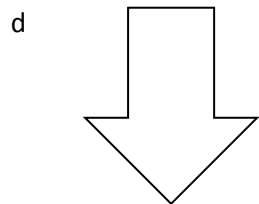

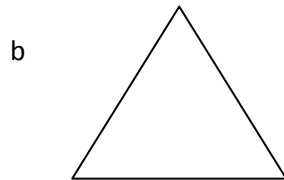

1) i. உங்களது சூழலில் காணப்படும் உயிருள்ள இருபுடைச்சமச்சீரான உயிரினங்கள் 2 இன் பெயர்களை எழுதுக.

ii. உங்களது சூழலில் காணப்படும் உயிரற்ற இருபுடைச்சமச்சீரான பொருட்கள் 3 ஐக் குறிப்பிடுங்கள்.

2) i. கீழ்வரும் வடிவங்களில் சமச்சீர் அச்சுக்கள் சரியான முறையில் வரையப்பட்டுள்ள உருக்களின் கீழ் கோடிடுக.



ii. கீழ்வரும் வடிவங்களின் எல்லா சமச்சீர் அச்சுக்களையும் புள்ளிக்கோட்டினால் வரைக.



3) ஒரு இருபுடைச்சமச்சீர் மாத்திரம் உள்ள உருக்கள் இரண்டு வரைக.

4) இரு இருபுடைச்சமச்சீர் மாத்திரம் உள்ள உருக்கள் இரண்டு வரைக.

5) நான்கு இருபுடைச்சமச்சீர் மாத்திரம் உள்ள உருக்கள் இரண்டு வரைக.