



மாகாணக்கல்வி திணைக்களம் சபரகமுவ மாகாணம் வாராந்த பாடசாலை

பாடம் :- விஞ்ஞானம்

1ம் வாரம்

தரம் :- 07

Prepared by :- க.தர்ஷனபிரியன் (இ/ப/பெட்டிக்கலை தமிழ் வித்தியாலயம்)

■ சரியான விடையின் கீழ் கோடிடுக.

01. பின்வருவனவற்றுள் பூக்கும் தாவரம் யாது?

1. மார்க்காந்தியா 2. நெபிரோலெப்பிச 3. மடுப்பனை 4. கார்டீனியா

02. வேர்ச்சிறுகணுக்களில் காணப்படும் நுண்ணங்கி யாது?

1. வைரசு 2. பங்கசு 3. பற்றீரியா 4. மேற்கூறிய யாவும்

03. வளிமண்டலத்துடன் வாயுப்பரிமாற்றத்தை மேற்கொள்ளும் வேர் வகை யாது?

1. மிண்டி வேர் 2. மூச்சுவேர் 3. காற்றுக்குரிய வேர் 4. ஏறும் வேர்

04. பின்வருவனவற்றுள் காற்றுக்குரிய தண்டுகளில் உணவு சேமிக்கும் தாவரம் யாது?

1. கித்துள் 2. பிரண்டை 3. வற்றாளை 4. உலவை

05. தாவரங்களில் உணவு தயாரிக்கும் செயன்முறை எவ்வாறழைக்கப்படும்?

1. உணவு தயாரிப்பு 2. ஒளித்தொகுப்பு 3. உணவு கடத்தல் 4. ஆவியுயிர்ப்பு

■ தரப்பட்ட தாவரங்களை மட்டும் கொண்டு இடைவெளிகளை நிரப்புக

(காற்றுக்குரிய வேர், மடுப்பனை, வெங்காயம், பூ, நார் வேர்)

01 தண்டின் அடிப்பகுதியிலிருந்து உருவாகும் ஒரே பருமனைக் கொண்ட அனேக வேர்கள்
..... எனப்படும்.

02 தாவரங்களின் இலிங்க உறுப்பு ஆகும்.

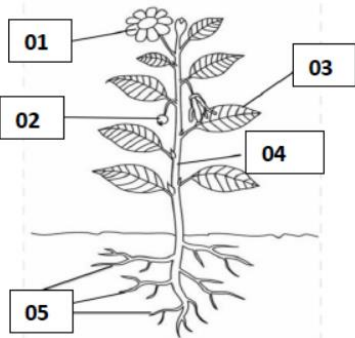
03 ஒர்க்கிட் தாவரத்தில் வேர்கள் காணப்படும்.

04 வித்துக்களை உருவாக்காத பூக்காத தாவரமாகும்.

05 நிலக்கீழ் தண்டினைக் கொண்ட தாவரமாக கூறலாம்.

■ வக்ஷலா என்ற மாணவி தனது பாட புத்தகத்தில் பிரதிச்செய்துகொண்ட மாதிரி படம் கீழே தரப்பட்டுள்ளது.

01. தாவரத்தின் பகுதிகளை இனங்கண்டு அவற்றின் தொழில் ஒவ்வொன்று வீதம் குறிப்பிடுக.



பகுதி	தொழில்
01.	
02.	
03.	
04.	
05.	

02. தாவரங்கள் எதன் அடிப்படையில் இரு பிரதானப் பகுதிகளாக பிரிக்கப்பட்டுள்ளது?

.....

03. பூக்கள் மூலம் மேற்கொள்ளப்படும் இனப்பெருக்கம் எவ்வாறு அழைக்கப்படும்?

.....

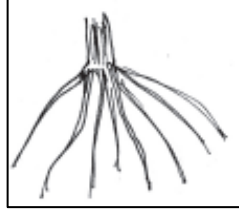
04. பூக்கும் தாவரங்களின் இரு வகைகளும் எவை?

.....

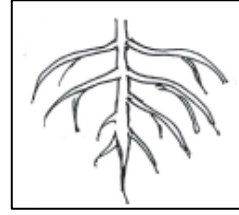
05. பூக்கும் தாவரங்கள் 05 குறிப்பிடுக.

.....

▪ சுருக்கமான விடைத் தருக.



A



B

01. தரப்பட்ட A, B வேர் வகைகளை இனங்காண்க.

A :

B :

02. A வகை வேர் காணப்படும் தாவரங்கள் இரண்டு தருக.

.....

03. B வகை வேர் காணப்படும் தாவரங்கள் இரண்டு தருக.

.....

04. வேர்களின் பிரதான தொழில்கள் இரண்டு தருக.

.....

.....

05. வேர்கள் மூலம் பதியமுறை இனப்பெருக்கத்தை மேற்கொள்ளும் தாவரங்கள் இரண்டு தருக.

.....

06. ஆணி வேரில் உணவு சேமிக்கும் தாவரங்கள் இரண்டு தருக.

.....

07. பக்கவேரில் உணவு சேமிக்கும் தாவரங்கள் இரண்டு தருக.

.....

08. வேர்ச்சிறுகணுக்கள் காணப்படும் தாவரங்கள் இரண்டு தருக.

.....

09. நிலகீழ் தண்டுகள் என்றால் என்ன?

.....

10. நிலக்கீழ்த்தண்டுகளுக்கு நான்கு உதாரணம் தருக.

.....

.....